



 **Quatre garçons** ont fait une course en vélo. **Pedro** est arrivé avant **Jean** mais après **Alexandre**. **Maxime** a battu Alexandre.
Dans quel ordre les quatre garçons sont-ils arrivés?


 Marion et Théo ont tous les deux autant d'argent : **18 €**.
Combien Théo doit-il donner à Marion pour qu'elle ait 10 € de plus que lui?


 Chloé a quatre chattes : **Sissi** est la plus grande, **Chipie** est moins grande que **Pistache**, **Cali** est plus petite que Chipie.
Range les quatre chattes de la plus petite à la plus grande.

 David donne quatre pièces pour payer un paquet de bonbons qui coûte 5 €.
Dessine les pièces qu'il a utilisées.

 Je voudrais apprendre à jouer au tennis. Je suis donc allé à **TENNISPORT**.
J'ai acheté **une raquette, un sac de sport et une boîte de balles**.
La boîte de balles coûte 5 €. La raquette coûte 10 € de plus que le sac.
J'ai dépensé 55 €.
Quel est le prix du sac de sport?

AU FEU !!! Avec 4 verres, on remplit une carafe; avec 2 carafes, on remplit une casserole; avec deux casseroles, on remplit un seau.
Combien faut-il de verres pour remplir un seau?

 Lors d'un match de rugby, une équipe a marqué 18 points . Un essai rapporte 5 points, une pénalité rapporte 3 points.
Comment cette équipe a-t-elle marqué ses 18 points?

 Complète les suites de nombres :


1 – 3 – 5 - - - 11 - - - 17 - - - 23

1 – 6 - - 16 - - 26 – 31 -









30 – 27 – 24 - - - - - 3 - .

100 - - 90 - 85 - 80 - - - 65 - 60 - - 50

X Mets une croix sous les carrés coloriés exactement comme le modèle.



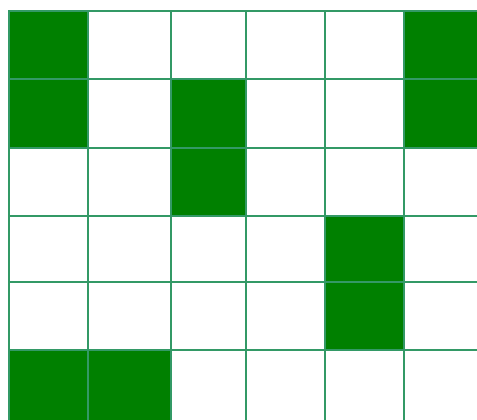
modèle



☰ Je pense à un nombre : il est plus petit que 50 mais il est plus grand que 25. Son chiffre des dizaines est le double de son chiffre des unités.

Quel est ce nombre?

✍ Combien devras-tu colorier de cases pour qu'il y ait autant de cases coloriées que de cases blanches?




✍ Combien doit-on colorier de cases pour que le nombre de cases blanches soit le double du nombre de cases coloriées?

..... Complète l'addition avec les chiffres 0, 1, 2, 3, 4 et 5.

$$\dots + \dots + \dots = 87$$

Trouvés sur le net : <http://www.jlsigrist.com/indexd5.html>

Les 2 souris ont grignoté quelques carreaux de ma tablette de chocolat.
Sauras-tu me dire combien?



Le L magique

Placez les nombres de 1 à 5 de sorte que la somme des nombres de la ligne et de la colonne soit la même.
Trouvez toutes les solutions.

